

さんすうプリント①

088

くりかえし

たしかめ

けいさんドリル
③ 12 ページ
④ 32 ページ

14. おおきい かず

なまえ

てん

● □に かずを かきましょう。

(1つ10てん)

① 82は, 10が □ こと 1が □ こ

② 十の^{じゅう}くらいが 5, 一の^{いち}くらいが 9の
かずは □

● おおきい ほうに ○を つけましょう。

(1つ5てん)

③

45	52
----	----

() ()

④

94	86
----	----

() ()

● □に かずを かきましょう。

(10てん)

⑤

106	107	□	109	□
-----	-----	---	-----	---

● けいさんを しましょう。

(1つ10てん)

⑥ $30+8$

⑦ $95-5$

⑧ $42+4$

⑨ $46-4$

⑩ $70+20$

⑪ $100-90$

089

ちょうせん


たしかめ

けいさんドリル
③ 12 ページ
④ 32 ページ

14. おおきい かず



なまえ

てん

●  の かずの ほうが おおきく なるように します。
□に すうじを かきましょう。



(1つ5てん)

①

68	6□
----	----

②

83	□2
----	----

● □に かずを かきましょう。

(1つ5てん)

③

70	73	□	□	82
----	----	---	---	----

④

96	98	□	102	□
----	----	---	-----	---

● □に かずを かきましょう。

(1つ10てん)

⑤ $90+□=94$

⑥ $67-□=60$

⑦ $72+□=75$

⑧ $75-□=72$

⑨ $30+□=90$

⑩ $80+□=100$

⑪ $70-□=30$

⑫ $100-□=70$

さんすうプリント②

090

わくわく

けいさんドリル
③ 14 ページ
⑫ 34 ページ


15. どちらが ひろい

なまえ


1つ50てん

てん

- どちらが ひろいでしょうか。
ひろい ほうの たこに いろを めりましょう。



- ヤルッキー と レン と ナナミ は、じんとりあそびを しました。ますを かぞえて、いちばん ひろい ところを あかて、いちばん せまい ところを あおで めりましょう。



091

くりかえし

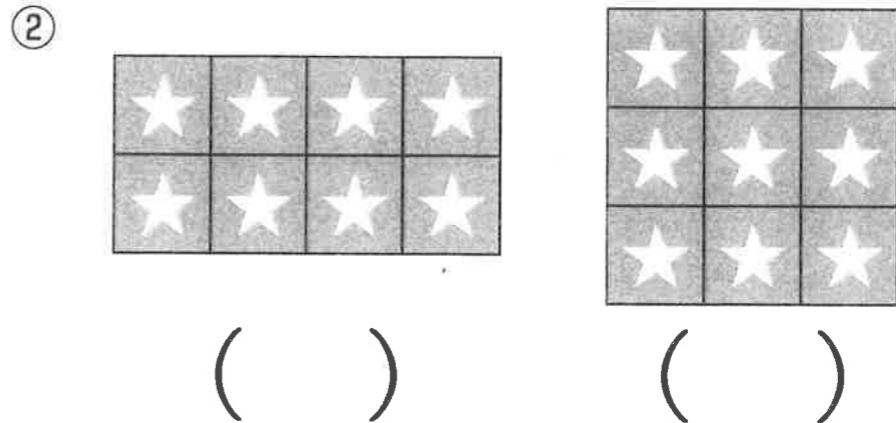
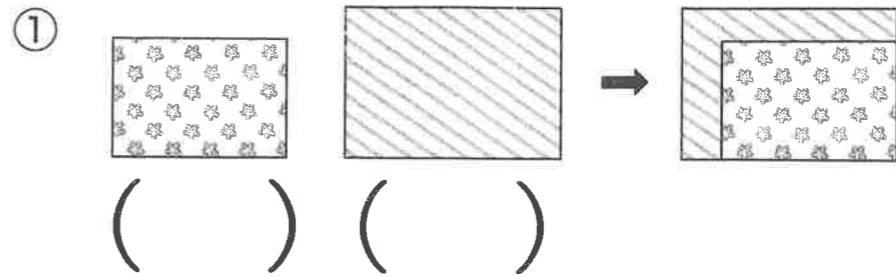
けいさんドリル
③ 14 ページ
⑫ 34 ページ

15. どちらが ひろい

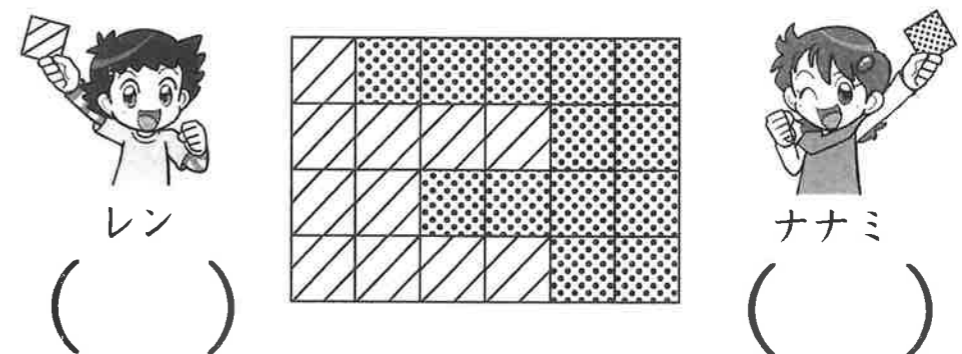
なまえ

てん

- どちらが ひろいでしょうか。
ひろい ほうに ○を つけましょう。 (①②は1つ30てん, ③は40てん)



- ③ じんとりあそびを しました。ひろい ほうが 勝ちです。かった ほうに ○を つけましょう。



さんすうプリント①こたえ

088

こたえ

くりかえし

けいさんドリル
③ 12 ページ
⑫ 32 ページ

たしかめ

14. おおきい かず

- ① 8, 2 ② 59 ③ () (○)
④ (○) () ⑤ 108, 110 ⑥ 38
⑦ 90 ⑧ 46 ⑨ 42 ⑩ 90 ⑪ 10

まちがえた
ところを
みなおそう!

088

くりかえし
けいさんドリル
③ 12 ページ
⑫ 32 ページ

たしかめ

14. おおきい かず

● □に かずを かきましょう。(1つ10てん)

- ① 82は、10が □ こと 1が □ に
② 十のくらいが 5、一のくらいが 9の
かずは □

● おおきい ほうに ○を つけましょう。(1つ5てん)

- ③

45	52
----	----

 ④

94	86
----	----

() () () ()

● □に かずを かきましょう。(10てん)

- ⑤

106	107	□	109	□
-----	-----	---	-----	---

● けいさんを しましょう。(1つ10てん)

- ⑥ 30+8 ⑦ 95-5
⑧ 42+4 ⑨ 46-4
⑩ 70+20 ⑪ 100-90

089

こたえ

ちょうせん

けいさんドリル
③ 12 ページ
⑫ 32 ページ

たしかめ

14. おおきい かず

- ① 9 ② 9 ③ 76, 79 ④ 100, 104
⑤ 4 ⑥ 7 ⑦ 3 ⑧ 3
⑨ 60 ⑩ 20 ⑪ 40 ⑫ 30


まちがえた
ところを
みなおそう!

089

ちょうせん
けいさんドリル
③ 12 ページ
⑫ 32 ページ

たしかめ

14. おおきい かず

●  の かずの ほうが おおきく なるように します。
□に すうじを かきましょう。(1つ5てん)

- ①

68	6□
----	----

 ②

83	□2
----	----

● □に かずを かきましょう。(1つ5てん)

- ③

70	73	□	□	82
----	----	---	---	----

④

96	98	□	102	□
----	----	---	-----	---

● □に かずを かきましょう。(1つ10てん)

- ⑤ $90 + \square = 94$ ⑥ $67 - \square = 60$
⑦ $72 + \square = 75$ ⑧ $75 - \square = 72$
⑨ $30 + \square = 90$ ⑩ $80 + \square = 100$
⑪ $70 - \square = 30$ ⑫ $100 - \square = 70$

さんすうプリント②こたえ

090

こたえ

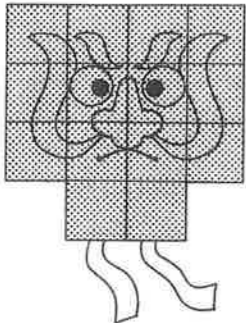
わくわく

けいさんドリル
③ 14 ページ
④ 34 ページ

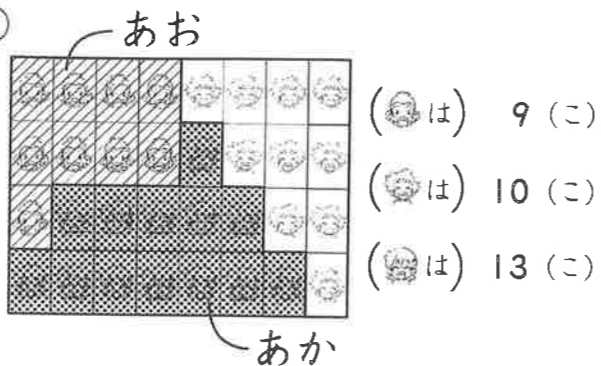
15. どちらが ひろい

第一回

①



②



まちがえた
ところを
みなおそう!

090

わくわく
けいさんドリル
③ 14 ページ
④ 34 ページ

15. どちらが ひろい


なまえ

1つ50てん

てん


- どちらが ひろいでしょうか。
ひろい ほうの たこに いろを ぬりましょう。

①



- と と は、じんとりあそびを しました。
ますを かぞえて、いちばん ひろい ところを あかて、
いちばん せまい ところを あおて ぬりましょう。

②



091

こたえ

くりかえし

けいさんドリル
③ 14 ページ
④ 34 ページ

15. どちらが ひろい

第一回

① () (○)

② () (○)

③ (^{レン}) (^{ナナミ}) (○)

まちがえた
ところを
みなおそう!

091

くりかえし
けいさんドリル
③ 14 ページ
④ 34 ページ

15. どちらが ひろい

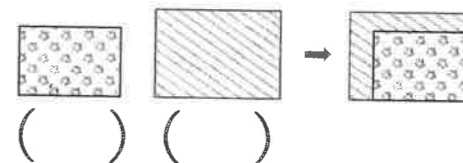
なまえ

1つ50てん

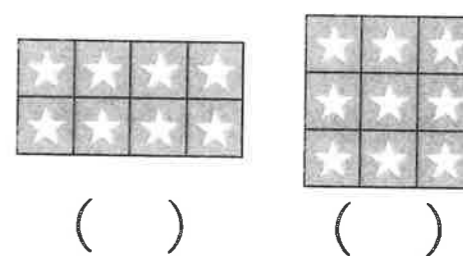
てん

- どちらが ひろいでしょうか。
ひろい ほうに ○を つけましょう。 (1つは1つ50てん、5は40てん)

①



②



- ③ じんとりあそびを しました。ひろい ほうが 勝ちです。
かった ほうに ○を つけましょう。

