

こたえ

くりかえし

けいさんどりる
② 8・9 ペスジ
⑬ 37・38 ペスジ

7. 10より おおきい かず

東
1
0

- ① 13 ② 18 ③ 10 ④ 10 ⑤ 17 ⑥ 14 ⑦ 17
- ⑧ 19 ⑨ 15 ⑩ 12 ⑪ 12 ⑫ 15 ⑬ 15 ⑭ 13
- ⑮ 20 ⑯ 25 ⑰ 37

まちがえた
ところを
みなおそう!

くりかえし
けいさんどりる
② 8・9 ペスジ
⑬ 37・38 ペスジ

7. 10より おおきい かず

なまえ

てん

● けいさんを しましょう。

(1つ5てん)

- ① 10+3 ② 10+8
- ③ 15-5 ④ 19-9
- ⑤ 16+1 ⑥ 12+2
- ⑦ 14+3 ⑧ 15+4
- ⑨ 13+2 ⑩ 14-2
- ⑪ 16-4 ⑫ 18-3
- ⑬ 17-2 ⑭ 19-6

● □に かずを かきましょう。

(1つ10てん)

- ⑮ 10が 2こで □
- ⑯ 20と 5で □
- ⑰ 30と 7で □

こたえ

くりかえし

けいさんどりる
② 5~7 ペスジ
⑬ 34~36 ペスジ

7. 10より おおきい かず

東
1
0

- ① 14 ② 1 ③ 10
- ④ (○) () ⑤ () (○) ⑥ 17, 20 ⑦ 16, 18
- ⑧ 18 ⑨ 20 ⑩ 16

まちがえた
ところを
みなおそう!

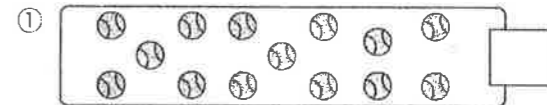
くりかえし
けいさんどりる
② 5~7 ペスジ
⑬ 34~36 ペスジ

7. 10より おおきい かず

なまえ

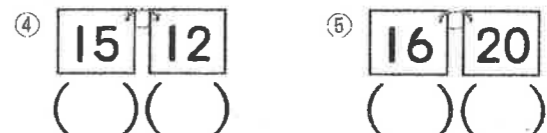
てん

● □に かずを かきましょう。

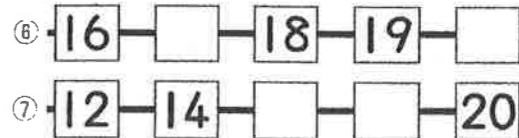


- ② 11は 10と □ ③ 19は □ と 9

● おおきい ほうに ○を つけましょう。



● □に かずを かきましょう。



● つぎの かずは いくつですか。

- ⑧ 16より 2 おおきい かず □
- ⑨ 17より 3 おおきい かず □
- ⑩ 20より 4 ちいさい かず □