

こたえ

くりかえし

けいさんどりる
② 5~7 へえじ
④ 34~36 へえじ

7. 10より おおきい かず

実
1
0

- ① 14 ② 1 ③ 10
- ④ (○)() ⑤ () (○) ⑥ 17, 20 ⑦ 16, 18
- ⑧ 18 ⑨ 20 ⑩ 16


まちがえた
ところを
みなおそう!

039 くりかえし 1つおてん

けいさんどりる
② 5~7 へえじ
④ 34~36 へえじ

7. 10より おおきい かず なまえ

てん

- □に かずを かきましょう。
- ① 
- ② 11は 10と □ ③ 19は □ と 9
- おおきい ほうに ○を つけましょう。
- ④

15	12
----	----

 ⑤

16	20
----	----

() () () ()
- □に かずを かきましょう。
- ⑥ 16—□—18—19—□
- ⑦ 12—14—□—□—20
- つぎの かずは いくつですか。
- ⑧ 16より 2 おおきい かず
- ⑨ 17より 3 おおきい かず
- ⑩ 20より 4 ちいさい かず



こたえ

わくわく

けいさんどりる
② 5~7 へえじ
④ 34~36 へえじ

7. 10より おおきい かず

実
1
0

- ① 18 ② 12 ③ 6 ④ 10
- ⑤  ⑥ 
- ⑦ 11 ⑧ 14 ⑨ 17 ⑩ 13






まちがえた
ところを
みなおそう!

038 わくわく 1つおてん

けいさんどりる
② 5~7 へえじ
④ 34~36 へえじ

7. 10より おおきい かず なまえ

てん

- □に かずを かきましょう。
- ①  ② 
- ③ 16は 10と □ ④ 18は □ と 8
- おおきい ほうに いろを めりましょう。
- ⑤  ⑥ 
- □に かずを かきましょう。
- ⑦ 
- つぎの かずは いくつですか。
- ⑧

15より2 おおきいかず

 ⑩

14より1 ちいさいかず
