

# 第3回 丹後検定 解答用紙

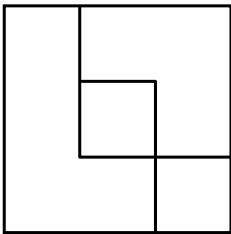
お名前

【 】に○を付けてください ↓

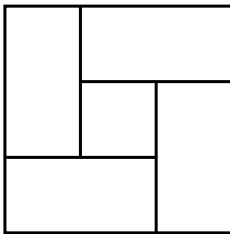
【 】 児童( 年 組) 【 】 保護者( 年 組) 【 】 地域の方  
 【 】 その他( )

1. ある法則に従って点数がつけられています。

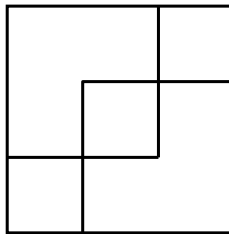
(ア)4点



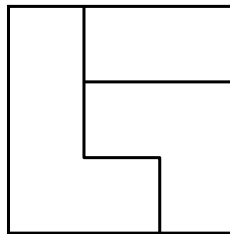
(イ)2点



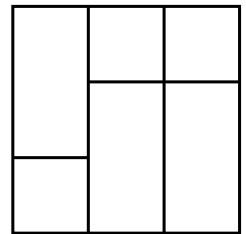
(ウ)6点



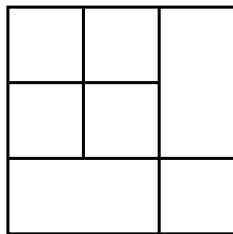
(エ)1点



(オ)5点



(カ)は、何点でしょう。 (キ)? 点




答え 点

2. 順番を推理する数列の問題です。

それぞれの数字は下の絵が表すある法則で並んでいます。(ア)(イ)に入る数字はいくつでしょう。

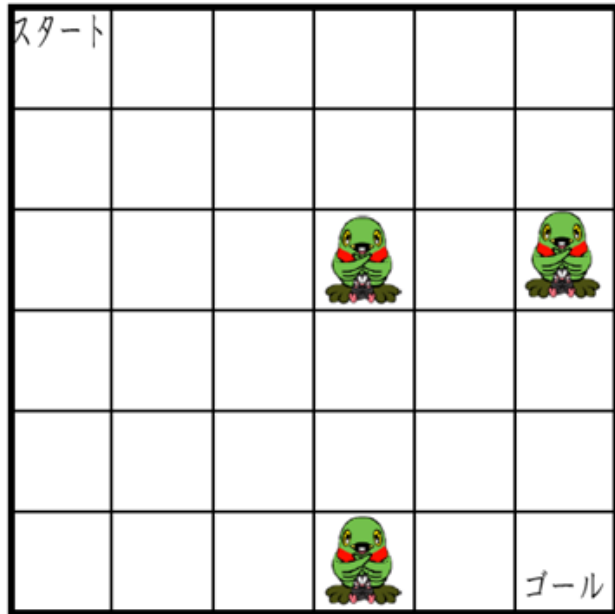

1	3	8	(ア)	10	15	15	(イ)

答え (ア) (イ)

3. すべてのマスに1回ずつとおって、スタートからゴールまでのみちをつくりましょう。  
 のいるところは、とおれません。

(問題)

(例)



第2回 (先月号) の答え

1. ①正 (一や水も正解) ②上 ③目

2. ①秋桜→**こ**すもす ②心太→と**ろ**てん ③敵わない→か**な**わない  
 ④生憎→あい**に**く ⑤真面目→**ま**じめ ⑥今朝→**け**さ  
 ⑦留守→**る**す ⑧備える→そ**な**える

○を順番に読むと・・・コロナにまけるな!!

3. たて よこ ちがっているところ

**く** の **4**

**◆**の形が反対になっている 等