

# 復習シート 第4学年 算数

埼玉県学力学習状況調査



コハトン

組		番号		名前	
---	--	----	--	----	--

（「図形」を問う問題）

- 1 次のアからエの中で、正三角形を1つえらびましょう。 **レベル2・3**

- ア 辺の長さが4 cm, 4 cm, 4 cmの三角形  
 イ 辺の長さが4 cm, 5 cm, 6 cmの三角形  
 ウ 辺の長さが5 cm, 5 cm, 3 cmの三角形  
 エ 辺の長さが5 cm, 6 cm, 6 cmの三角形

答え

- 2 下のアからウの角の大きさをくらべて、大きいじゅんにかきましょう。 **レベル3**

答え


→ →

ア

ウ

イ

埼玉県学力学習状況調査



コハトン

# 復習シート 第4学年 算数

埼玉県学力学習状況調査



コハクン

組		番号	名前	<b>模範解答</b>

（「図形」を問う問題）

- 1 次のアからエの中で、正三角形を1つえらびましょう。 **レベル2・3**

- ア 辺の長さが4 cm, 4 cm, 4 cmの三角形  
 イ 辺の長さが4 cm, 5 cm, 6 cmの三角形  
 ウ 辺の長さが5 cm, 5 cm, 3 cmの三角形  
 エ 辺の長さが5 cm, 6 cm, 6 cmの三角形

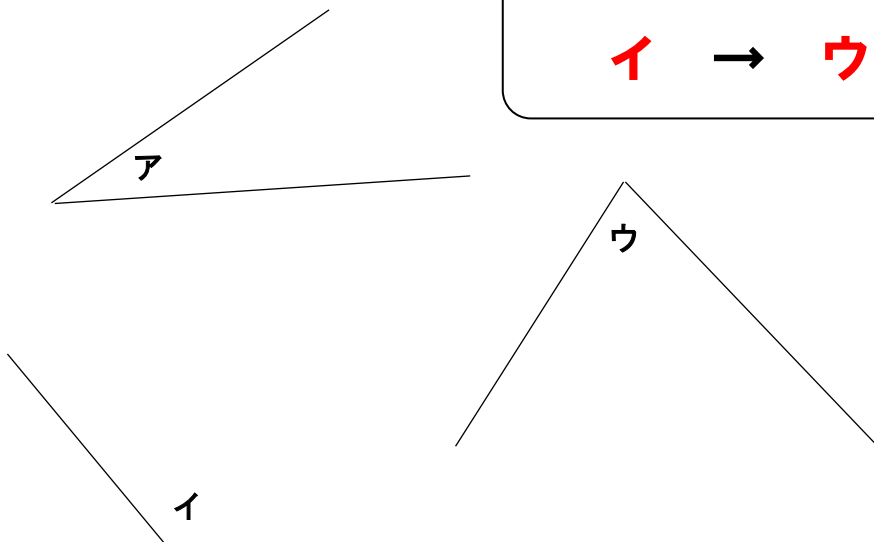
答え

**ア**

イは、3辺とも長さのちがう三角形  
 ウ・エは二等辺三角形  
 アは3辺すべて長さが等しい三角形で、これが正三角形


- 2 下のアからウの角の大きさをくらべて、大きいじゅんにかきましょう。 **レベル3**

答え

**イ → ウ → ア**

イは、90°よりも大きい角  
 アとウは90°より小さいが、見比べてウの角の方が大きいことが分かる。

埼玉県学力学習状況調査



コハクン